







© ok.ru/zaykinaskazka

4 ↑	3 ←	2 ↖	2 ↑	1 →	4 ↘	2 ↑	3 →
2 ↗	2 ↑	1 ←	4 ↙	4 ↑	1 →	3 ↗	2 ↑
1 ↗	2 →	2 ↖	2 ←	1 ↙	2 ↖	2 ↙	1 ↖
2 ←	2 ↙	2 →	1 ↘	2 ↓	3 ↘	1 →	



Policz ile jest zwierzątek i kwiatków
na łące. Swoje obliczenia zapisz w tabelce.



				
...

