

# Witajcie Leśne Ludki!

Wiem, że jesteście już „specjalistami” w grę w szachy i widziałam w wiadomościach od Waszych Rodziców, że gracie i ćwiczycie swoje umiejętności



Dlatego przygotowałam dla Was zabawy na wesoło- Zapraszam do pracy

## „Wesołe Szachy”



W ramach przypomnienia: PIONOWO



POZIOMO



SKOŚNIE



Polecenie I

**Spróbuj policzyć ile jest ciemnych kwadracików?**

*Nie bądź leniuszkiem, szybko to sprawdź ☺*

*Każdy taki kwadrat nazywa się polem, ma swój adres!*

**Spróbuj policzyć ile jest jasnych kwadracików?**

Odpowiedz na pytanie: **Jak uważasz czy ciemnych i jasnych kwadratów jest po tyle samo?**

Mam pytanie czy **znasz swój adres zamieszkania**? Na pewno tak. A ja nauczę Cię (*przypomnę*) jak odnajdywać adresy pól na szachownicy.

Zobacz: na dole szachownicy znajdziesz litery od **a** do **h**, obok są cyfry od **1** do **8**. Jeśli przesuniesz jednym palcem np. po kolumnie z literą „**c**”, a drugim np. po rzędzie z cyfrą **4** i Twoje palce spotkają się w jednym punkcie- to znaczy, że znalazłeś pole z adresem **c4**. Prawda, że to proste? Pamiętaj, że zawsze jak położysz szachownicę przed sobą- zawsze w lewym dolnym rogu powinno być pole ciemne.

Poszukaj mieszkania dla literek c – 8, e-4, g-7

### Polecenie II

Na szachownicy powyżej kolorem czerwonym narysuj kreski na wszystkich kolumnach



Kolorem zielonym na wszystkich rzędach



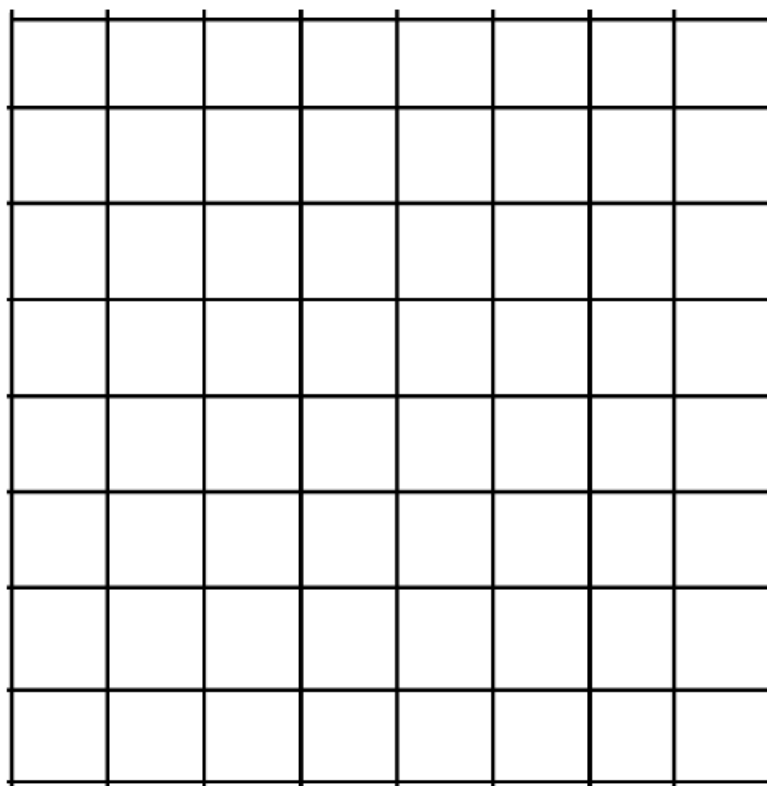
Niebieskim na liniach skośnych



### Polecenie III

a) Pokoloruj szachownicę w kolorach, które widzisz podczas swojej gry (szachownica żółto brązowa lub biało czarna)

b) podpisz samodzielnie wszystkie kolumny od **a** do **h** i wszystkie rzędy od **1** do **8**.



**Na dzisiaj to wszystko. Zabawa z szachami uczy logicznego myślenia.**

**Gratuluję wykonania zadań!**

Pozdrawiam ciepłutko Beata Gołyska